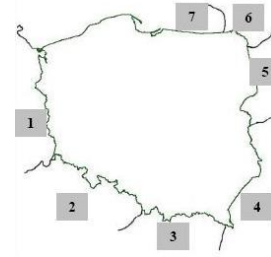


Nazwisko i imię ucznia, klasa, szkoła:

Geografia – II etap dla klasy VII

Zadanie 1 (0–1p)

Na podstawie opisu rozpoznaj kraj będący sąsiadem Polski.
Wybierz w tabeli, otaczając kółkiem - nazwę kraju i odpowiadający mu numer na mapie.



<i>Opis kraju</i>	<i>Nazwa kraju</i>			<i>Numer na mapie</i>						
	A. Słowacja	B. Czechy	C. Białoruś	1	2	3	4	5	6	7
Nie ma dostępu do morza, jego najwyższy szczyt to Śnieżka.										

Zadanie 2. (0 – 1p)

Na wycieczce korzystasz z mapy w skali 1:25 000. Odległość między parkingiem a szlakiem turystycznym na mapie wnosi 7,5cm. Ile będzie wynosić ta odległość w terenie?

- a. 250 m b. 1250 m c. 1875 m d. 3125 m

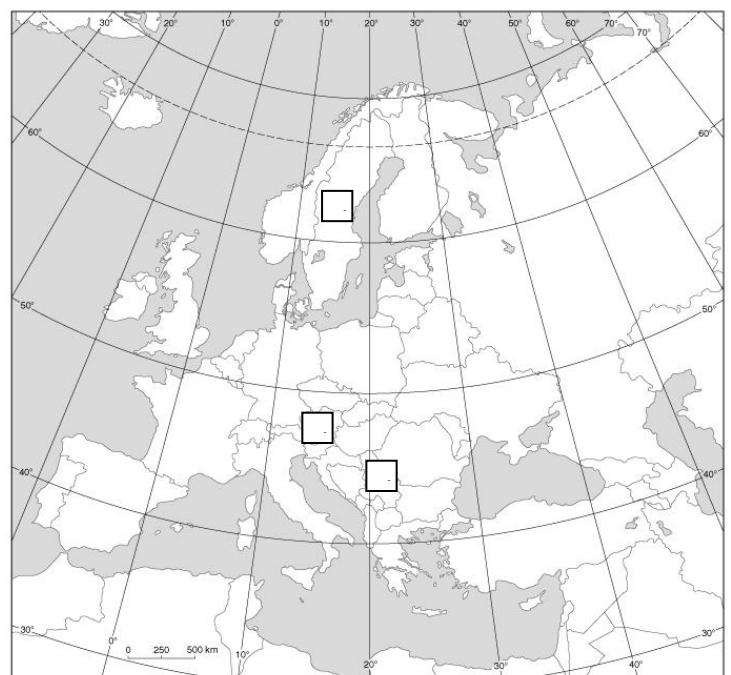
Zadanie 3. (0 – 3p)

Wykonaj zadanie na podstawie tabeli i mapy Europy.

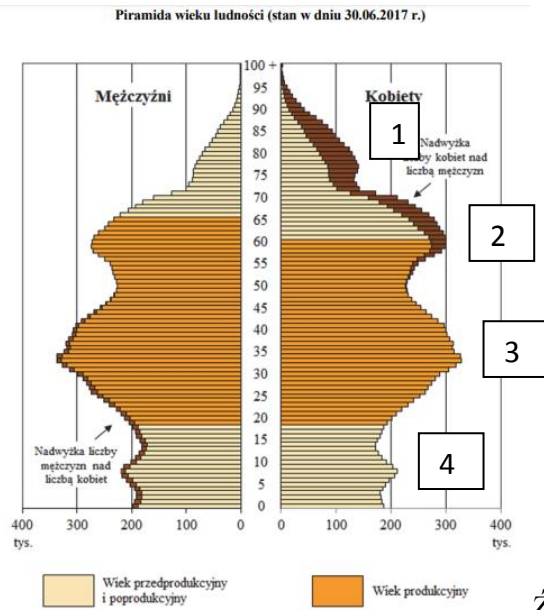
a) Przyporządkuj opisy podane w tabeli krajom oznaczonym na mapie. Wpisz w pustych okienkach na mapie odpowiednie numery.

b) Uzupełnij tabelę - zapisz właściwe nazwy krajów i nazwy ich stolic.

Numer na mapie	Opis	Nazwa kraju	Nazwa stolicy
1.	Kraj skandynawski		
2.	Kraj bałkański		
3.	Kraj alpejski		



Zadanie 4. (0– 3p)



4.1. Dokończ zdanie – wybierz właściwą odpowiedź spośród podanych:

- Na podstawie powyższej piramidy wieku i płci można stwierdzić, że osoby w wieku 40 lat
 - a) urodziły się w niżu demograficznym,
 - b) stanowią grupę o łącznej liczebności 300 tys.,
 - c) w większości są mężczyznami,
 - d) urodziły się w latach 80. XX w.

- Na podstawie piramidy wieku i płci można stwierdzić, że społeczeństwo Polski:
 - a) starzeje się
 - b) jest młode

- Na piramidzie wieku i płci ludności Polski powojenny wyż demograficzny kompensacyjny (wyrównawczy) oznaczono cyfrą: **1 / 2 / 3 / 4**.

Zadanie 5. (0 – 2p)

Rozpoznaj i **wpisz nazwy** dwóch form polodowcowych zaznaczonych na ilustracji.

