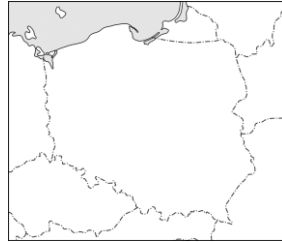


Nazwisko i imię ucznia, klasa, szkoła:

Geografia – I etap dla klasy VIII

Zadanie 1 (0–1p)

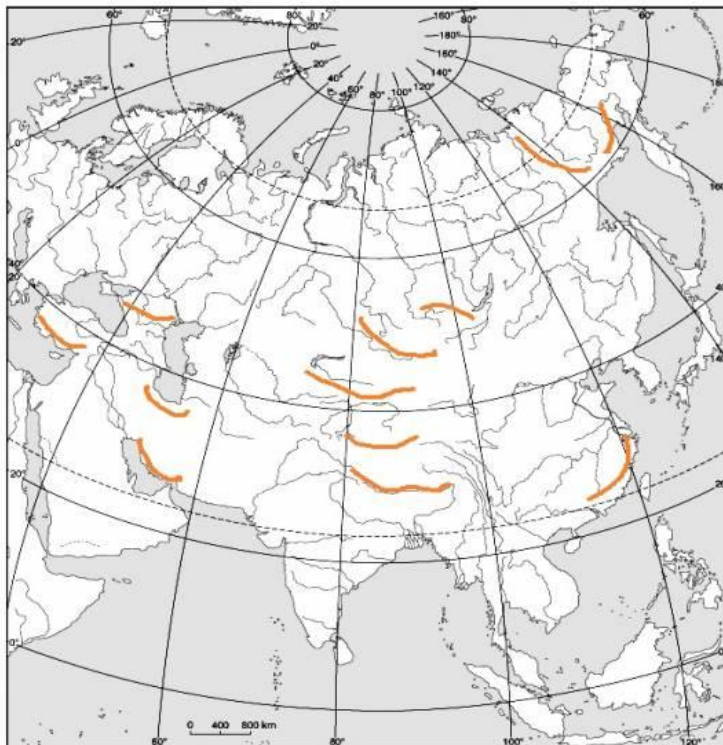
Na mapie, we właściwym miejscu wpisz nazwę kraju sąsiadującego z Polską, poprzez „eksklawę”.



Zadanie 2. (0–3p)

Uzupełnij informacje dotyczące rekordów fizycznogeograficznych Azji, a następnie zaznacz je odpowiednimi literami na mapie konturowej.

- A) najwyższy szczyt –
- B) największe jezioro –
- C) największa wyspa –






Źródło: WSiP

Zadanie 3. (0– 3p)

Uzupełnij tabelę.

Wpisz nazwy obiektów i krajów położonych w Azji, które przedstawiają fotografie.

	<i>Nazwa obiektu</i>	<i>Kraj</i>




Źródło: Wikipedia

Zadanie 4 (0–2p)

Skreśl błędne informacje w poniższych zdaniach.

- a) Miejsce we wnętrzu Ziemi, z którego rozchodzą się fale sejsmiczne, to *epicentrum* / *hipocentrum*.
- b) Gwałtowne przemieszczenie mas skalnych powoduje powstanie drgań rozchodzących się w postaci *fal sejsmicznych* / *tsunami*.
- c) Siłę trzęsień ziemi określa się najczęściej w skali *Beauforta* / *Richtera*.

Zadanie 5. (0– 1p)

Wybierz prawidłowy zapis skali liczbowej, odpowiadający podanej w ramce podziałce liniowej.

- a) 1 : 150
- b) 1 : 5000
- c) 1 ; 50
- d) 1 : 100

